

1 Escribe las cantidades como se lee.

45 _____


66 _____

25 _____


69 _____

2 Dibuja un conjunto de 15 paletas.

3 Ilumina de rojo la figura grande, de azul la figura mediana y de amarillo la pequeña.



4 Dibuja encima de la mesa una pelota, debajo de la mesa una flor.



5 Realiza una numeración de 2 en 2 hasta el 50.

6 Realiza las siguientes operaciones:

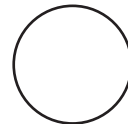
$$\begin{array}{r} \text{d u} \\ 96 \\ + 15 \\ \hline \end{array} \quad \begin{array}{r} \text{d u} \\ 28 \\ + 61 \\ \hline \end{array} \quad \begin{array}{r} \text{d u} \\ 53 \\ + 67 \\ \hline \end{array} \quad \begin{array}{r} \text{d u} \\ 48 \\ - 15 \\ \hline \end{array} \quad \begin{array}{r} \text{d u} \\ 75 \\ - 61 \\ \hline \end{array} \quad \begin{array}{r} \text{d u} \\ 29 \\ - 15 \\ \hline \end{array}$$

7 Tacha los números pares.

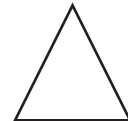
1 2 3 4 5 6 7 8 9

8 Escribe el nombre de cada figura.









9 Pepe tenía 10 dulces y se comió 5. ¿Cuántos dulces le quedan?



Respuesta _____ dulces

10 Susana y su mamá ponen la mesa. Susana lleva 6 vasos y su mamá 3. ¿Cuántos vasos pusieron?



Respuesta _____ vasos

11 Escribe con letra los siguientes números.

4 _____ 7 _____ 10 _____ 3 _____

12 Dibuja lo que se te indica.

Una decena

Una docena

Una unidad

Una línea curva



13 Tacha los elementos pequeños.

