



1 Remarca de verde las líneas rectas.



2 Remarca de rojo todas las líneas curvas.



3 Escribe con letra las siguientes cantidades.

78 _____

55 _____

99 _____

89 _____

4 Escribe con número.

Cuarenta y cinco _____


Veintitrés _____

Cincuenta y dos _____

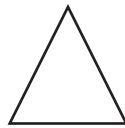
5 Continúa la serie.


2 4 6 _____


6 Escribe el nombre de las figuras.











7 Realiza las siguientes operaciones.

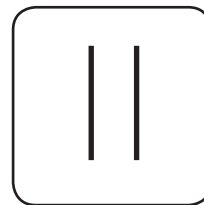

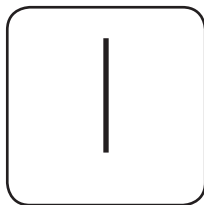
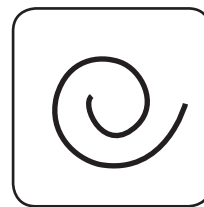
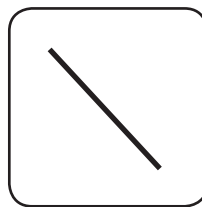
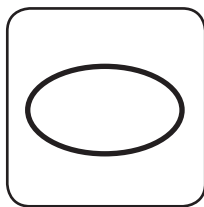
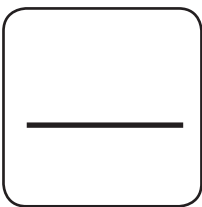
$$3 + 9 + 4 =$$

$$9 - 8 =$$

$$2 + 1 + 7 =$$

$$6 - 3 =$$

8 Marca de rojo las líneas rectas y de azul las curvas.



9 Operaciones.

$$\begin{array}{r} 67 \\ +49 \\ \hline 32 \end{array}$$

$$\begin{array}{r} 134 \\ +290 \\ \hline 493 \end{array}$$

$$\begin{array}{r} 109 \\ +205 \\ \hline 203 \end{array}$$

$$\begin{array}{r} 256 \\ +421 \\ \hline 742 \end{array}$$

$$\begin{array}{r} 690 \\ -380 \\ \hline \end{array}$$

$$\begin{array}{r} 432 \\ -243 \\ \hline \end{array}$$

$$\begin{array}{r} 976 \\ -743 \\ \hline \end{array}$$

- 10 En un autobús hay 15 personas y bajan 6. ¿Cuántas personas quedan en el camión?


Respuesta _____ pasajeros

- 11 En el parque hay 10 pirules, 13 robles y 2 jacarandas. ¿Cuántos árboles hay en el parque?



Respuesta _____ árboles

- 12 Forma conjuntos de 10 elementos.



¿Cuántos conjuntos formaste?

¿Cuántos círculos sobraron?

- 13 Une con líneas los números según corresponda.

7

Nueve

6

Seis

12

Doce

1

Siete

9

Uno

3

Tres