

1 Escribe con letra las siguientes cantidades.

30 \_\_\_\_\_

20 \_\_\_\_\_

11 \_\_\_\_\_

6 \_\_\_\_\_

2 Completa la siguiente serie de 5 en 5.

5 \_\_\_\_\_ 15 \_\_\_\_\_ 25 \_\_\_\_\_ 35 \_\_\_\_\_

3 Escribe un antecesor y un sucesor a cada cantidad.

<i>Antecesor</i>	<i>Número</i>	<i>Sucesor</i>
_____	20	_____
_____	30	_____
_____	40	_____

4 Realiza las siguientes sumas:

$$\begin{array}{r} 568 \\ +749 \\ \hline 305 \end{array}$$

$$\begin{array}{r} 731 \\ +813 \\ \hline 193 \end{array}$$


$$\begin{array}{r} 853 \\ +712 \\ \hline 931 \end{array}$$

5 Realiza las siguientes líneas.

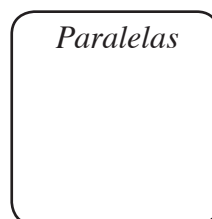
*Curva cerrada*



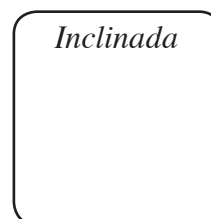
*Ondulada*



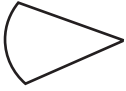



*Paralelas*



*Inclinada*



6 Observa las figuras y registra en la tabla las características que se piden de ellas.

Figura	¿Cuántos lados rectos tiene?	¿Cuántos lados curvos tiene?	¿Cuántos lados tiene?
			
			
			
			



7 Realiza las siguientes restas.

$$\begin{array}{r} 189 \\ - 94 \\ \hline \end{array}$$

$$\begin{array}{r} 131 \\ - 66 \\ \hline \end{array}$$

$$\begin{array}{r} 163 \\ - 74 \\ \hline \end{array}$$

8 Contesta las siguientes operaciones de multiplicar.

a)  $3 + 3 =$

c)  $7 + 1 =$

b)  $6 - 1 =$

d)  $9 - 3 =$

- 9 La familia García fue a la feria y gastaron \$ 20.00 en boletos de entrada, \$50.00 en juegos mecánicos y \$20.00 en comidas. ¿Cuánto dinero gastaron en total?



Resultado \$ \_\_\_\_\_

- 10 Sofía compró en el puesto de revistas un álbum para pegar 40 estampas de los animales de la selva, hasta ahora ella ha logrado pegar 28 estampas. ¿Cuántas estampas le faltan para completar su álbum?



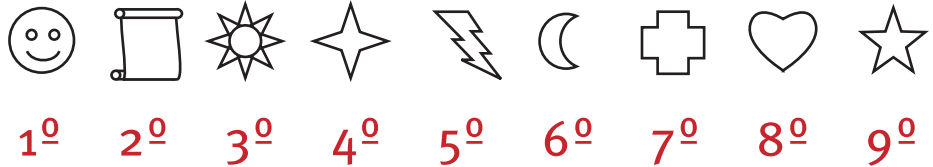
Resultado \_\_\_\_\_ estampas

- 11 Sigue las pistas y descubre el número.

Tengo 2 decenas y 3 unidades, soy el número \_\_\_\_\_

Sólo tengo 7 unidades, soy el número \_\_\_\_\_

- 12 Observa las siguientes imágenes y dibuja lo que se pide en los recuadros de abajo.



Dibuja la figura que está entre el tercero y el quinto.

Dibuja la figura que está entre el sexto y el octavo.

Dibuja la figura que está entre el primero y tercero.

Dibuja la figura que está entre el quinto y séptimo.