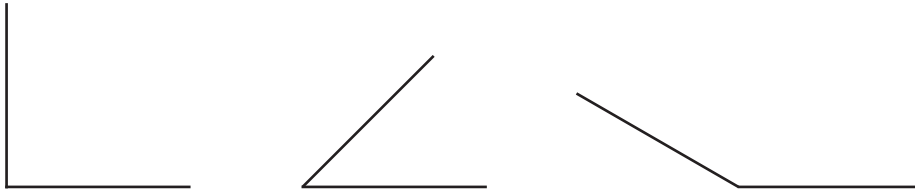


1 Marca los ángulos en las siguientes figuras.



2 Resuelve las siguientes multiplicaciones.

$2 \times 10 =$

$3 \times 7 =$

$3 \times 9 =$

$2 \times 7 =$

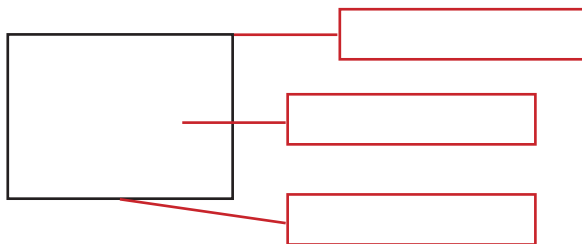
3 Encuentra el perímetro de la figura.



4 cm.

P=

4 Escribe el nombre de las partes de la siguiente figura.




Vértice

Superficie

Arista

5 Marca con rojo la circunferencia de la figura.



6 Escribe mayor que, menor que o igual según corresponda. ($>$, $<$, $=$)


a) 56 _____ 46

b) 199 _____ 200

c) 100 _____ 100

d) 49 _____ 39

7 Suma los siguientes grupos de elementos.



8 Realiza cálculo mental.

a) $2 + 2 + 10 - 2 + 5 =$

c) $8 + 3 - 2 + 1 =$

b) $10 + 10 - 9 + 2 =$

d) $13 + 24 - 8 - 8 =$

9 Tania tiene que repartir 12 canicas a 2 niños. ¿Cuántas canicas les toca a cada niño?

Resultado _____ canicas

10 Elvira fue al mercado y gastó \$ 168.00, pagó con un billete de \$200.00. ¿Cuánto dinero le sobró?

Resultado _____ pesos