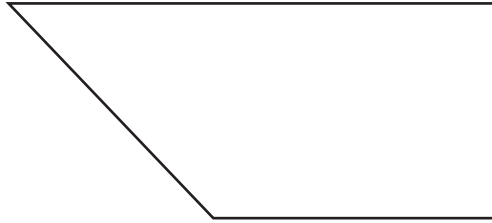


1 Marca los ángulos de la figura.



2 Colorea las siguientes canicas para que quede la misma distribución de colores.



3 Escribe dentro de los rectángulos los números ordinales con letra.


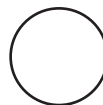
1º	2º	3º	4º	5º
6º	7º	8º	9º	10º

4 Realiza las siguientes notaciones desarrolladas.

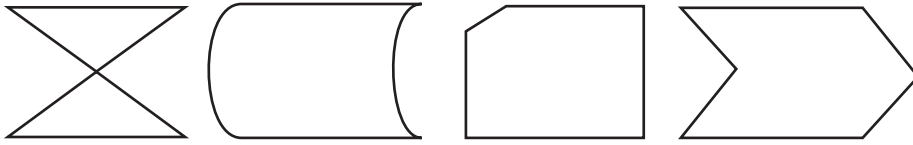
578 _____ + _____ + _____

296 _____ + _____ + _____

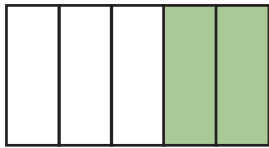
5 Escribe el nombre de las figuras geométricas.



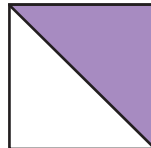
6 Ilumina las figuras que sean simétricas.



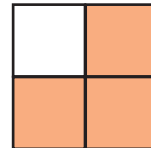
7 Escribe la fracción de la parte de la figura sombreada.



—



—



—

8 Escribe con letra las siguientes cantidades.

989 _____

306 _____

456 _____

108 _____

9 Ximena y Renee fueron a comprar plantas. Gastaron \$234.00 en un puesto y \$98.00 en otro. ¿Cuánto dinero gastaron en plantas?

Resultado _____ pesos

10 La entrada al zoológico cuesta \$20.00 los adultos y \$10.00 para los niños. La familia Magaña asistió con 3 adultos y 5 niños. ¿Cuánto dinero gastaron?

Resultado _____ pesos

