




1 Traza la simetría a las figuras.



2 Escribe el nombre de los cuerpos geométricos.







3 Escribe con letra las siguientes cantidades:

564 329. 123 _____

785.340 345 _____

9 000 023.20 _____

4 Escribe los valores absoluto y relativo de los dígitos indicados.

en la cantidad 768 430 002

a) el valor absoluto de 2 es _____

b) el valor relativo de 8 es _____

c) el valor relativo de 7 es _____

d) el valor absoluto de 4 es _____

e) el valor relativo de 6 es _____



- 5 Escribe el nombre de números ordinales que se te piden.

89° _____

95° _____

27° _____

12° _____

- 6 Escribe con números romanos las siguientes cantidades.

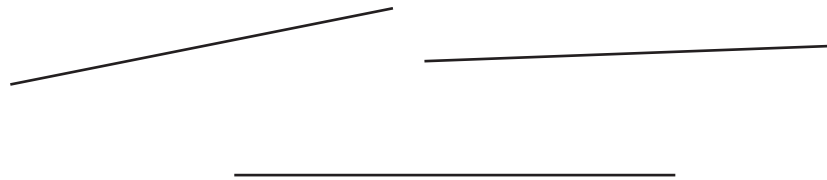
609 432 _____

8 953 _____

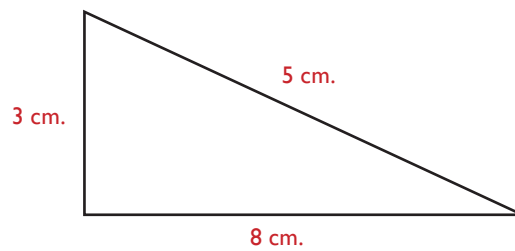
100 _____

50 _____

- 7 Mide y traza la suma de los segmentos.



- 8 Encuentra el área y perímetro de la siguiente figura.



A =

P =



- 9 Realiza las siguientes operaciones.

$$\begin{array}{r}
 4568 \\
 + 5602 \\
 \hline
 7489
 \end{array}
 \qquad
 \begin{array}{r}
 5679 \\
 - 4780 \\
 \hline
 \end{array}
 \qquad
 \begin{array}{r}
 569753 \\
 \times \quad 662 \\
 \hline
 \end{array}
 \qquad
 682 \overline{)94201}$$

- 10 Traza un ángulo agudo, uno obtuso y uno recto.

- 11 Nancy tiene \$45.00, Paola tiene \$65.00, Raquel tiene \$98.00, Elvira tiene \$120.00 y Esthela tiene \$78.00.

¿Cuál es la media aritmética de lo que tienen?

Resultado _____

- 12 Una televisión cuesta \$5,789.00, será comprada por los 7 miembros de la familia. ¿Cuánto tiene que dar cada uno?

Resultado _____

